



**EVALUAREA COMPETENȚELOR FUNDAMENTALE  
LA FINALUL CLASEI a II-a  
2015**

**Test 2**

**MATEMATICĂ**

**Județul / sectorul.....**

**Localitatea.....**

**Școala.....**

**Numele și prenumele elevei / elevului.....**

.....





**Clasa a II-a.....**

**Băiat**

**Fată**



Cei 24 de elevi din clasa a II-a, împreună cu doamna învățătoare, au mers să viziteze o grădină în care creșteau flori de primăvară. S-au plimbat prin grădină împreună cu grădinarul. Copiii au pus întrebări, iar grădinarul le-a răspuns și le-a explicat multe lucruri. Mai întâi, grădinarul le-a spus câte flori de primăvară cresc în grădină. Numărul acestora este scris în tabelul de mai jos.

			
156 narcise	83 lalele	124 zambile	90 ghiocci

1. Câte lalele și zambile sunt în total în grădină? Întreabă Bogdan.  
**Încercuiește litera corespunzătoare răspunsului corect.**

- a) 107
- b) 197
- c) 207
- d) 277

Nu se completează de către elev  
 COD

1.

2. Ioana și Victor au comparat numărul narciselor cu numărul zambilelor.  
**Scrive, în căsuța de mai jos, unul dintre semnele  $<$ ,  $=$ ,  $>$  pentru ca relația să fie corectă.**

156  124

Nu se completează de către elev  
 COD

2.




5. Grădinarul le-a spus copiilor că în fiecare zi trimite la florărie 40 de fire de lalele, așezate în 8 buchete cu același număr de fire.

– Câte fire are fiecare buchet de lalele? Întreabă grădinarul.

**Află rezultatul prin scădere repetată a aceluiași număr.**

**Scrie, pe spațiul dat, rezolvarea problemei.**




Nu se completează de către elev  
COD

5.

6. Grădinarul a cules din livadă 8 zambile albe și de cinci ori mai multe zambile roz. Curioasă, Irina scrie următorul exercițiu:  $8 + 8 \times 5 =$ .

**Ajut-o tu să afle câte zambile a adus grădinarul în total din grădină.**


**Scrie, pe spațiul dat, rezolvarea exercițiului.**



Nu se completează de către elev  
COD

6.

7. Elevii au realizat un afiș cu imagini ale florilor de primăvară din grădină, pe care le-au așezat ca în imaginea de mai jos. În ce parte a afișului au așezat **imaginea cu lalele**?  
**Încercuiește litera corespunzătoare răspunsului corect.**




- a) în partea de jos;
- b) în partea de sus;
- c) în partea dreaptă;
- d) în partea stângă.

Nu se completează de către elev  
COD

7.	<input type="text"/>
----	----------------------



10. Mircea și Ana au așezat câteva flori ca în șirul de mai jos.  
 – Ce flori urmează în șir? a vrut să afle grădinarul.  
**Încercuiește litera corespunzătoare răspunsului corect.**



Nu se completează de către elev  
 COD

10.



11. Copiii au stat în grădina de flori de la ora 10.00 până la ora 13.00. Câte ore au petrecut copiii în grădina de flori?

**Încercuiește litera corespunzătoare răspunsului corect.**

- a) 2 ore;
- b) 3 ore;
- c) 4 ore;
- d) 5 ore.

Nu se completează de către elev  
COD

11.

12. Grădinarul îi duce pe elevi la florărie, unde se vând flori din grădină. Prețul unui fir din fiecare floare este scris în tabelul de mai jos:

Flori	Preț
narcise	4 lei
lalele	3 lei
zambile	5 lei
ghiocei	2 lei

Radu are 20 lei. Poate el să cumpere câte 1 fir din fiecare floare?

**Explică, în spațiul dat, răspunsul tău.**

Da, pentru că \_\_\_\_\_

\_\_\_\_\_

Nu, pentru că \_\_\_\_\_

\_\_\_\_\_

Nu se completează de către elev  
COD

12.

**FELICITĂRI, AI AJUNS LA SFÂRȘITUL TESTULUI!**

**MULȚUMIM PENTRU PARTICIPARE!**